

Blumenpfad:

Station 5: Finde heraus wie viele Stufen die Treppe hat!
Löse dafür Aufgabe

$$\text{Egg} + \text{Egg} + \text{Egg} = 3$$

$$\text{Egg} = \underline{\hspace{2cm}}$$

$$\text{Egg} + \text{Rabbit} + \text{Rabbit} = 11$$

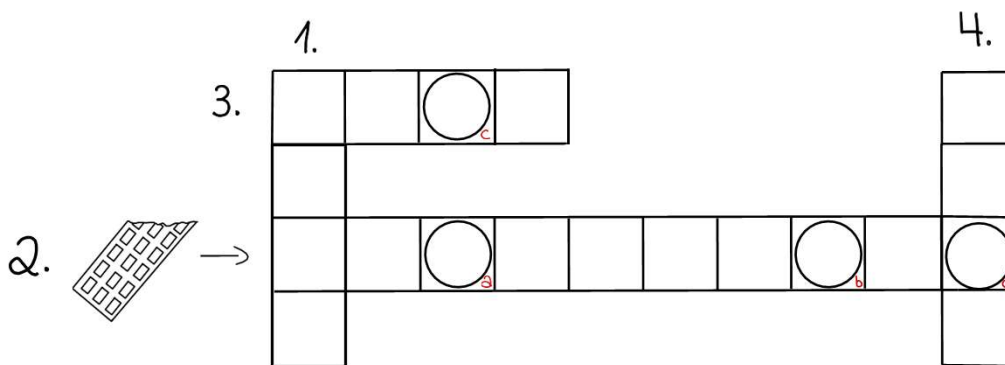
$$\text{Rabbit} = \underline{\hspace{2cm}}$$

$$\text{Egg} + \text{Rabbit} - \text{Egg} + \text{Rabbit} = \underline{\hspace{2cm}}$$

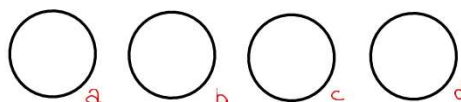
Stufen hat die Treppe

Station 7:

1. Welches Futter ist an Station 7?
2. Welches Lebensmittel ist dort abgebildet?
3. Wo brüten Vögel ihre Eier?
4. Was legen Hennen?


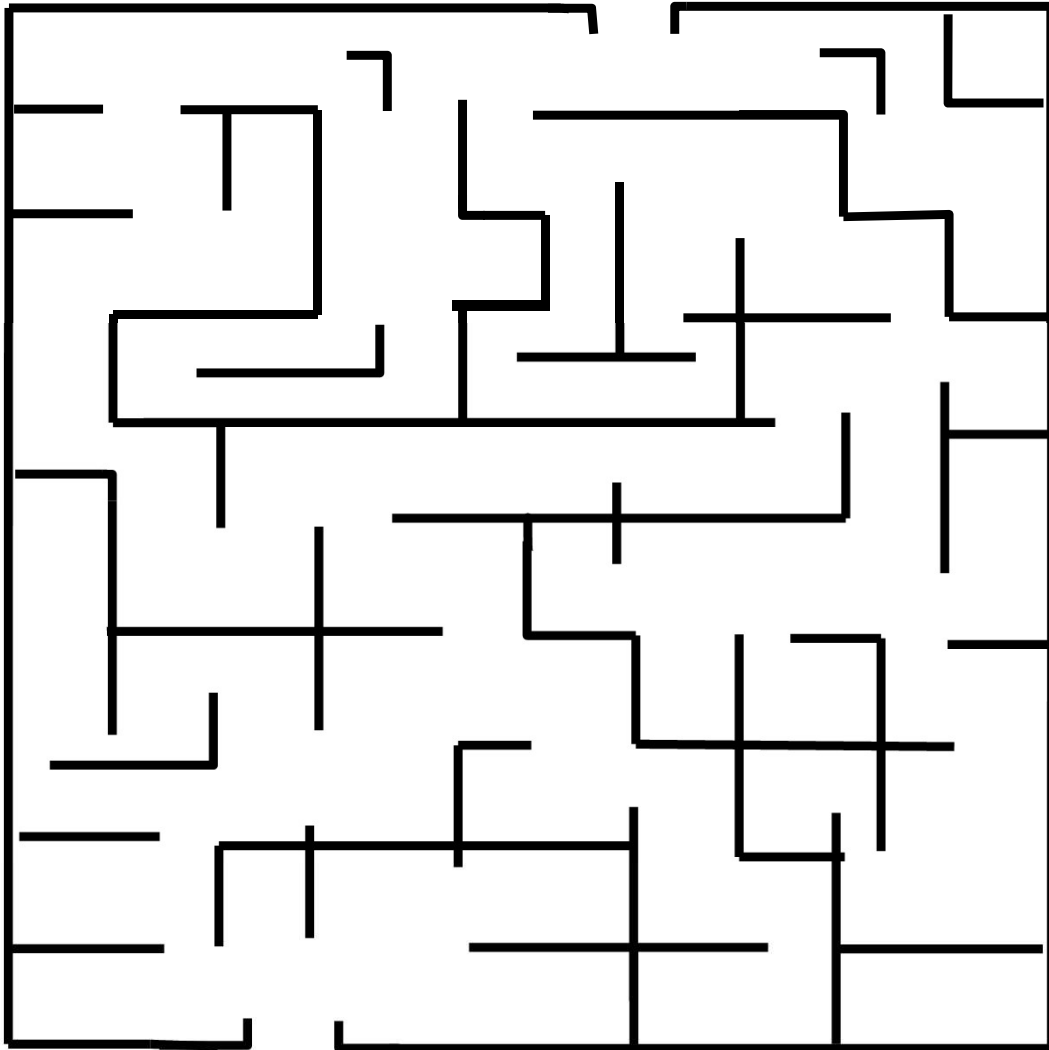


Lösungswort:



🌸 Blumenpfad: 🌻

Station 8: Bringe das Eichhörnchen zu seiner Nuss!



Blumenpfad:

Lösung

Station 5: Finde heraus wie viele Stufen die Treppe hat!
Löse dafür Aufgabe

$$\text{Ei} + \text{Ei} + \text{Ei} = 3$$

$$\text{Ei} = \underline{1}$$

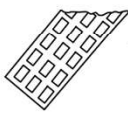
$$\text{Ei} + \text{Kanarienvogel} + \text{Kanarienvogel} = 11$$

$$\text{Kanarienvogel} = \underline{5}$$

$$\text{Ei} + \text{Kanarienvogel} - \text{Ei} + \text{Kanarienvogel} = \underline{10} \text{ Stufen hat die Treppe}$$

Station 7:

1. Welches Futter ist an Station 7?
2. Welches Lebensmittel ist dort abgebildet?
3. Wo brüten Vögel ihre Eier?
4. Was legen Hennen?

2.  →

1.	N	e	s	t	4.	e						
	u					i						
3.	s	c	h	o	k	o	l	a	d	e	4.	r
	s											

Lösungswort:

H_a a_b s_c e_d

Blumenpfad:

Lösung

Station 8: Bringe das Eichhörnchen zu seiner Nuss!

